



SOŠ a SOU Horky nad Jizerou

Střední odborná škola a Střední odborné učiliště Horky nad Jizerou 35

Obor: 65-42-M/02 Cestovní ruch

Registrační číslo projektu: CZ.1.07/1.5.00/34.0985

Předmět: Zeměpis cestovního ruchu

Ročník: 1.
Téma: Regionální a politická
geografie světa

Vypracoval: Mgr. Laibnerová Andrea
Materiál: VY_32_INOVACE_158

Datum: 20.3.2013

Anotace: Skandinávie



evropský
sociální
fond v ČR



EVROPSKÁ UNIE

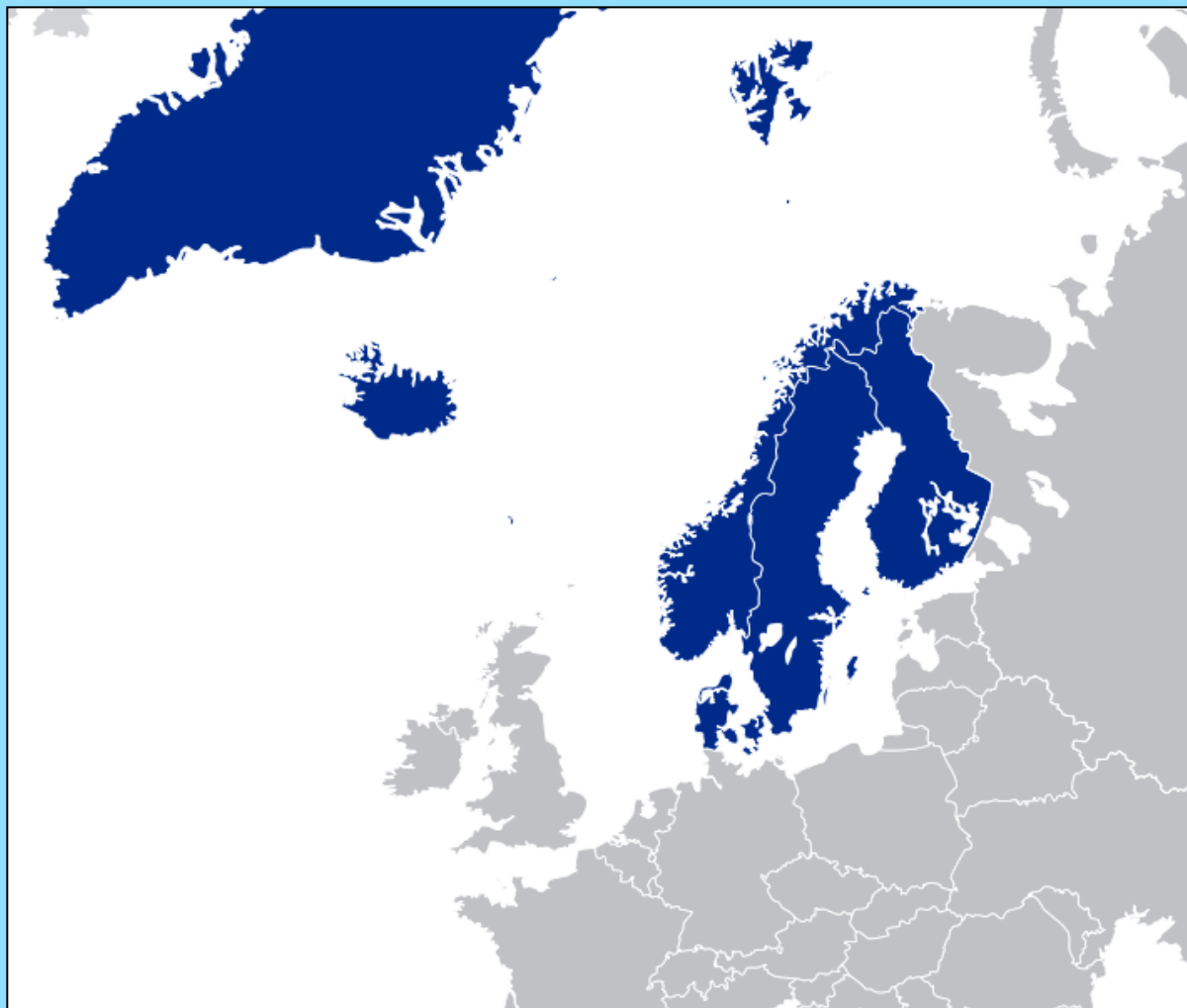


MINISTERSTVO ŠKOLSTVÍ,
MLÁDEŽE A TĚLOVÝCHOVY



OP Vzdělávání
pro konkurenceschopnost

INVESTICE DO ROZVOJE VZDĚLÁVÁNÍ



SKANDINÁVIE, SEVERSKÉ ZEMĚ

ROZPOZNÁŠ vlajky jednotlivých států?

A



B



C



D



E



DÁNSKO

FINSKO

ISLAND

NORSKO

ŠVÉDSKO

Všechny vlajky mají společný tzv. **skandinávský kříž**, který všechny země převzaly z dánské vlajky, která se používala již v roce 1219 a je nejstarší státní vlajkou, stále používanou nezávislým státem.



VYMEZENÍ REGIONU



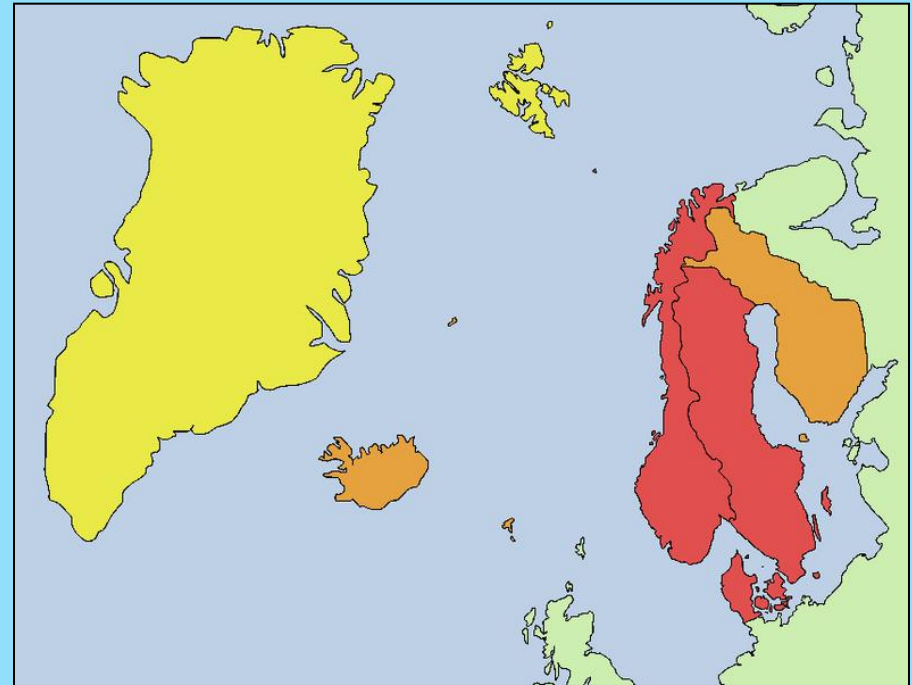
**KTERÉ STÁTY TVOŘÍ TZV.
SKANDINÁVII => SEVERSKÉ
ZEMĚ?**

⇒ Tři království: Dánsko,
Švédsko, Norsko

⇒ Island a Finsko



⇒ v budoucnu možné
Estonsko



Zdroj: wikipedia.org

ČERVENÁ: tři monarchie, které Skandinávii tvoří podle „nejpřísnější“ definice.

ORANŽOVÁ: Možné rozšíření pojmu

ŽLUTÁ: Maximální rozšíření, které se ve Skandinávii používá jako synonymum pro severské státy


Základní údaje

Skandinávský poloostrov => skandinávské země
(započítány i Dánsko a Island)

- Homogenní region
 - národnostně stejnorodý
- Nízká hustota zalidnění (např. v Norsku 14,5 ob. / km²) **KOLIK MÁ ČESKÁ REPUBLIKA?**
- **Stabilní demokratické státy** s vyspělou ekonomikou a silným sociálním zabezpečením => tzv. „**sociální státy**“


HISTORIE SKANDINÁVIE

- Osídleno severogermánskými a ugrofinskými Kmeny + Laponci
- Vikingové => postrach Evropy => výpravy na Island, Grónsko, do Severní Ameriky (r. 1000)
- 10.-13. stol. **christianizace** => vznik tří království
- 1397 – **Kalmarská unie** => spojení království (Dán.)
- 1521 osamostatnění Švédska
- 18. stol – Finsko spadá pod ruskou nadvládu
- Norsko a Dánsko - 1905; Finsko 1917, Island – 1944,



Sámové (Laponci)

- předpokládaný počet Laponců je 85 000 až 100 000
- většina v Norsku




Laponská vlajka



Sámové

Kontrolní otázky

- 1) Co lze považovat za symbol všech severských zemí?
 - 2) Proč mají tyto země nízkou hustotu zalidnění?
 - 3) Jaká významná rovnoběžka prochází tímto regionem?
 - 4) Jak se v minulosti jmenovali významní dobyvatelé okolních zemí? Které země si podmanili?
 - 5) Jak se jmenují původní obyvatelé nejsevernějších částí regionu? Jaký je jejich původ?
- 

Děkuji za
pozornost, dnešní
hodina je u konce



Použité zdroje

- I. BIČÍK RNDR. CSC. A KOLEKTIV. Regionální zeměpis světadílů: Učebnice zeměpisu pro střední školy. Praha: Nakladatelství České geografické společnosti s.r.o., 2000. ISBN 80-86034-43-7.
- KLÍMOVÁ, Eva Školní atlas světa. 2.vydání. Praha: Kartografie Praha, 2007. ISBN 978-80-7011-925-9.
- KAŠPAROVSKÝ KAREL. Zeměpis II. v kostce pro SŠ: regionální geografie. 1. vydání. Praha 10: FRAGMENT, 2008. ISBN 978-80-253-0585-0.
- http://cs.wikipedia.org/wiki/Soubor:Scandinavia_location_map_definitions.PNG
- http://cs.wikipedia.org/wiki/Soubor:Location_Nordic_Council.svg
- http://upload.wikimedia.org/wikipedia/commons/1/1d/Vlajky_severskych_zemi.png
- <http://referat-do-skoly.blog.cz/en/0912/vikingove>
- http://www.hks.re/domains/hks.re/wiki1/doku.php?id=laponci_finsko
- <http://cs.wikipedia.org/wiki/Soubor:LocationSapmi.png>
- http://cs.wikipedia.org/wiki/Soubor:Sami_flag.svg