



SOŠ a SOU Horky nad Jizerou

Střední odborná škola a Střední odborné učiliště Horky nad Jizerou 35

Obor: 65-42-M/02 Cestovní ruch

Registrační číslo projektu: CZ.1.07/1.5.00/34.0985

Předmět: Zeměpis cestovního ruchu

Ročník: 1.
**Téma: Regionální a politická
geografie světa**

Vypracoval: Mgr. Laibnerová Andrea
Materiál: VY_32_INOVACE_151

Datum: 6.3.2013

Anotace: Východní Afrika



INVESTICE DO ROZVOJE VZDĚLÁVÁNÍ

Politická a regionální geografie světa

Východní Afrika

Vymezení regionu

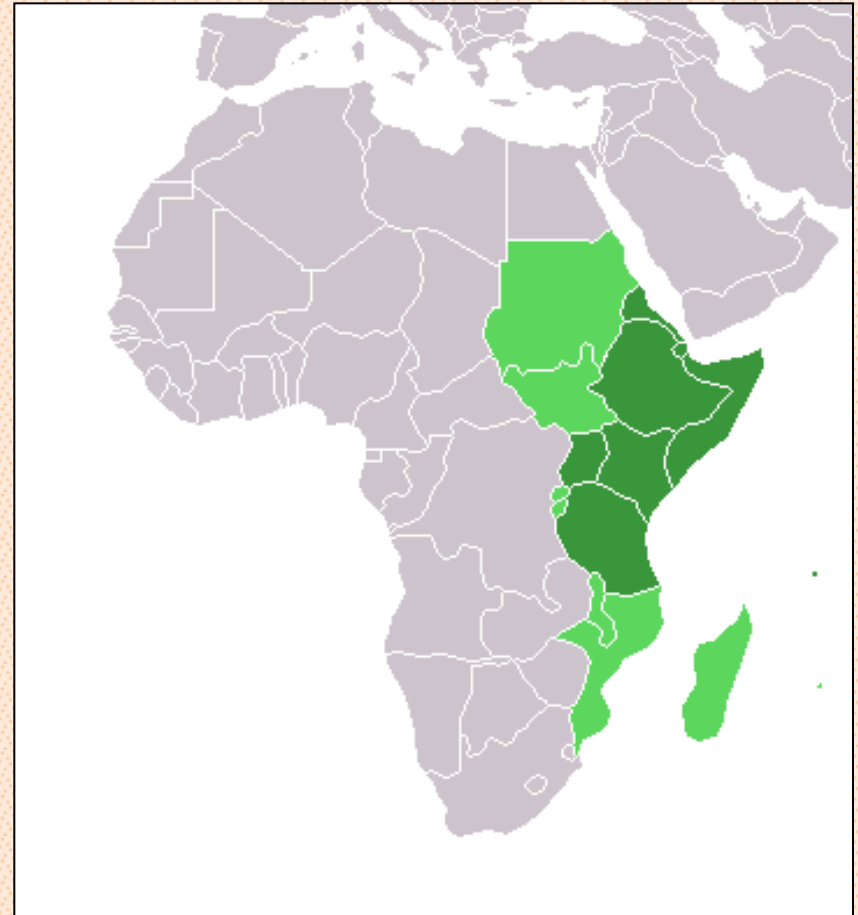
POKUS SE BEZ ATLASU VYJMENOvat CO NEJVÍCE STÁTŮ TOHOTO REGIONU

- Keňa, Tanzanie, Uganda
- Džibutsko, Eritrea, Etiopie, Somálsko („*Africký roh*“)
- Mozambik, Malawi, Madagaskar, Súdán



**KTERÝ STÁT TOHOTO
REGIONU JE NEJMLADŠÍ?**

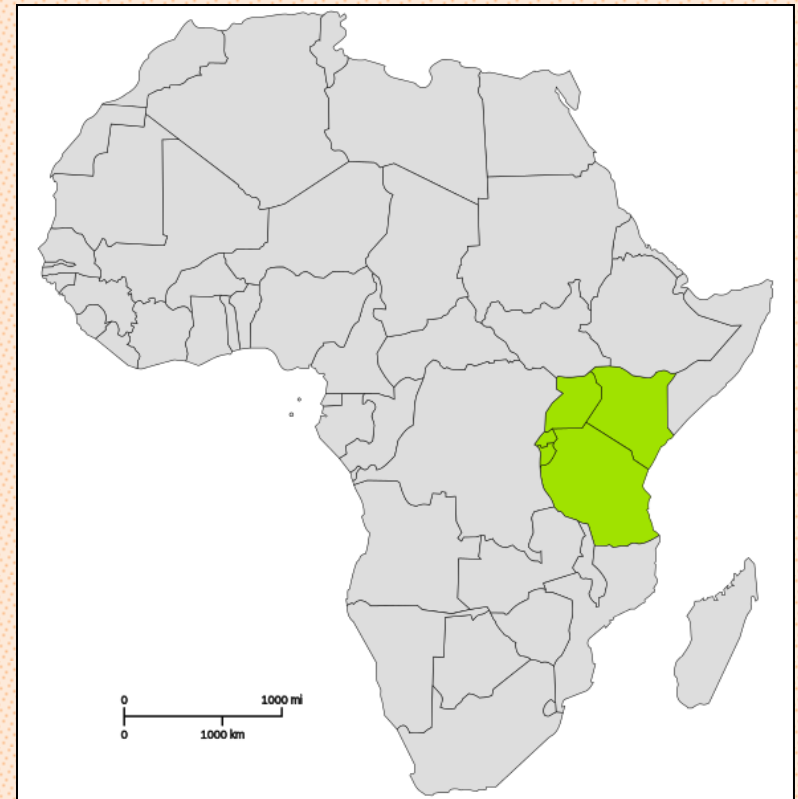
=> Eritrea (1993)




EAC - The East African Community

= **Východoafrické
společenství** => *Keňa,
Tanzanie, Uganda, Burundi
a Rwanda*

=> Společná historie spolupráce,
společné plány do budoucna
(jednotná měna, prezident,
parlament, trh..)



Přírodní poměry



VYHLEDEJ V ATLASU NÁSLEDUJÍCÍ OBLASTI:

- **Etiopská vysočina** – severní oblast
- **Východoafrický příkop** – západní oblast
 - archeologické nálezy koster Australopithéků
- **Východoafrická vysočina**
- **Kilimandžáro (Uhuru) 5895m** **Džibutsko**
 - Sopečný vulkán se třemi vrcholy
- **Assalská proláklina => -155m**



Vodstvo

- Četná jezera – vznik => tektonický původ
 - **Viktoriino jezero (Ukerewe)** – přírodní hranice tří států; hl. přítok ř. Kagera

Na jaké místo lze zařadit dle rozlohy?

- j. **Tanganika** – nejhlubší jezero (1470m) – přírodní hranice čtyř států
- j. **Malawi** (Njasa) – tři státy, bohatá fauna, rybolov

VYHLEDEJ DALŠÍ JEZERA A STÁTY, VE KTERÝCH SE NACHÁZÍ



Zdroj: wikipedia.org

Podnebí

- Převážně **tropické podnebí**
- **Horské oblasti** – výškové stupně – sněžná čára




PŘIPOMEŇ SI, CO TENTO POJEM ZNAMENÁ

- **Pouštní oblasti** – Somálsko, Etiopie – nízké srážky
- **Nejchladnější podnebí** – Etiopská vysočina

POMOCÍ ATLASU POROVNEJ PRŮMĚRNÉ ROČNÍ SRÁŽKY V RŮZNÝCH OBLASTECH TOHOTO REGIONU



Kontrolní otázky

- 1) Jmenuj nejnovější stát této oblasti.
 - 2) Jaký podnebný pás převažuje ve východní Africe?
 - 3) Jak se jmenuje hlavní město Madagaskaru?
 - 4) Jaké přírodní hranice často oddělují jednotlivé státy?
- 

Děkuji za
pozornost, dnešní
hodina je u konce



Použité zdroje

- I. BIČÍK RNDR. CSC. A KOLEKTIV. Regionální zeměpis světadílů: Učebnice zeměpisu pro střední školy. Praha: Nakladatelství České geografické společnosti s.r.o., 2000. ISBN 80-86034-43-7.
- KLÍMOVÁ, Eva Školní atlas světa. 2.vydání. Praha: Kartografie Praha, 2007. ISBN 978-80-7011-925-9.
- KAŠPAROVSKÝ KAREL. Zeměpis II. v kostce pro SŠ: regionální geografie. 1. vydání. Praha 10: FRAGMENT, 2008. ISBN 978-80-253-0585-0.
- <http://upload.wikimedia.org/wikipedia/commons/c/c6/Africa-countries-EAC.svg>
- http://cs.wikipedia.org/wiki/V%C3%BDchodn%C3%AD_Afrik
- http://cs.wikipedia.org/wiki/Soubor:Lucy_blackbg.jpg
- http://cs.wikipedia.org/wiki/Soubor:Lake_Malawi,_view_from_Likoma_Island.jpg